



PANDEMIAS DA ÁFRICA

Grupo 6: Gabriel Kleine e Gabriel Villela - 9ºA⁺

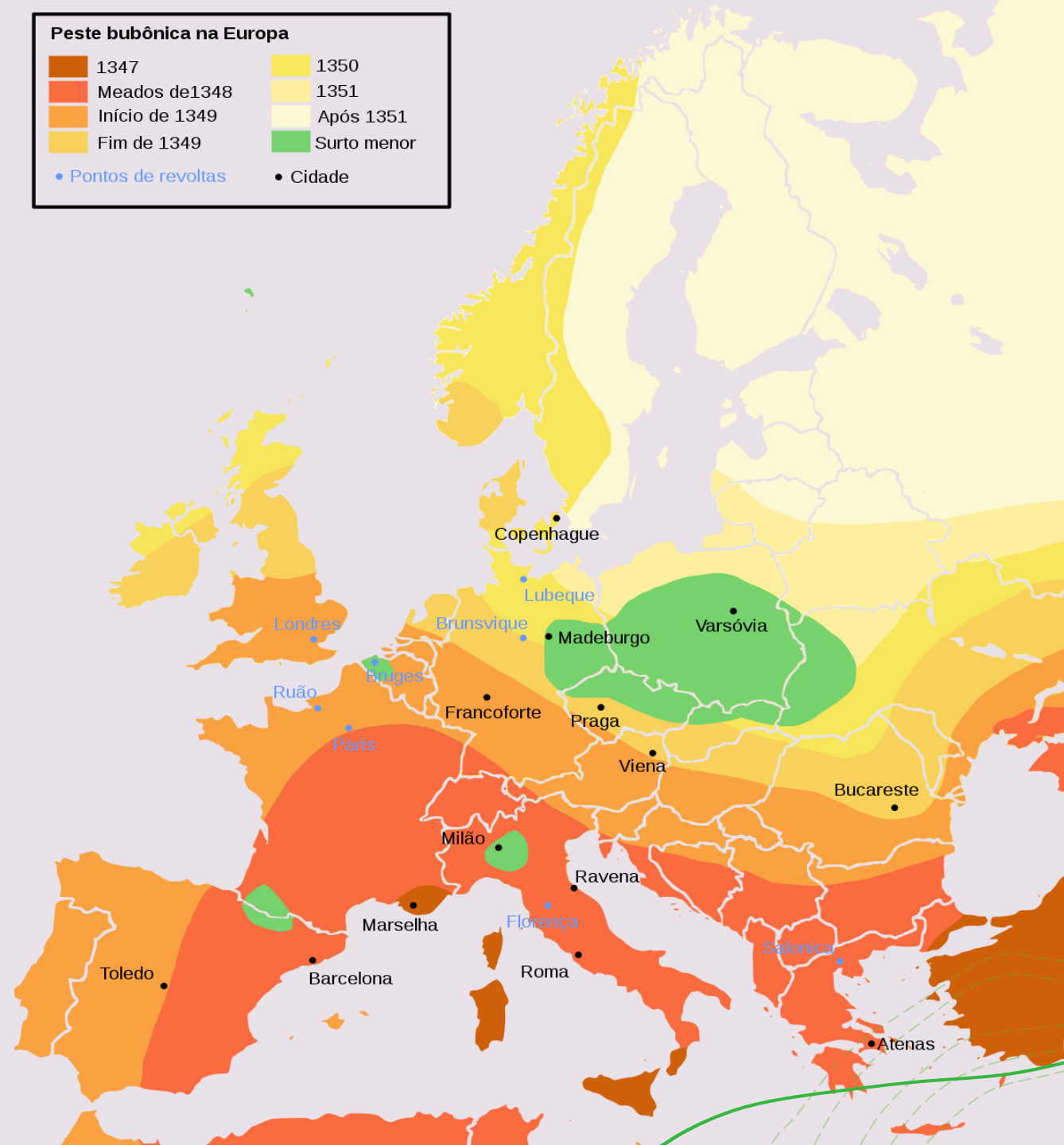

QUESTÃO PROBLEMA

- + Por que o continente africano tem poucos casos de coronavírus em relação a outros lugares do mundo?
- + Hipóteses: faltam testes e investimento financeiro para verificar o número de casos ou, por terem enfrentado outras pandemias, tiveram maior cuidado com as medidas preventivas inicialmente?

INTRODUÇÃO

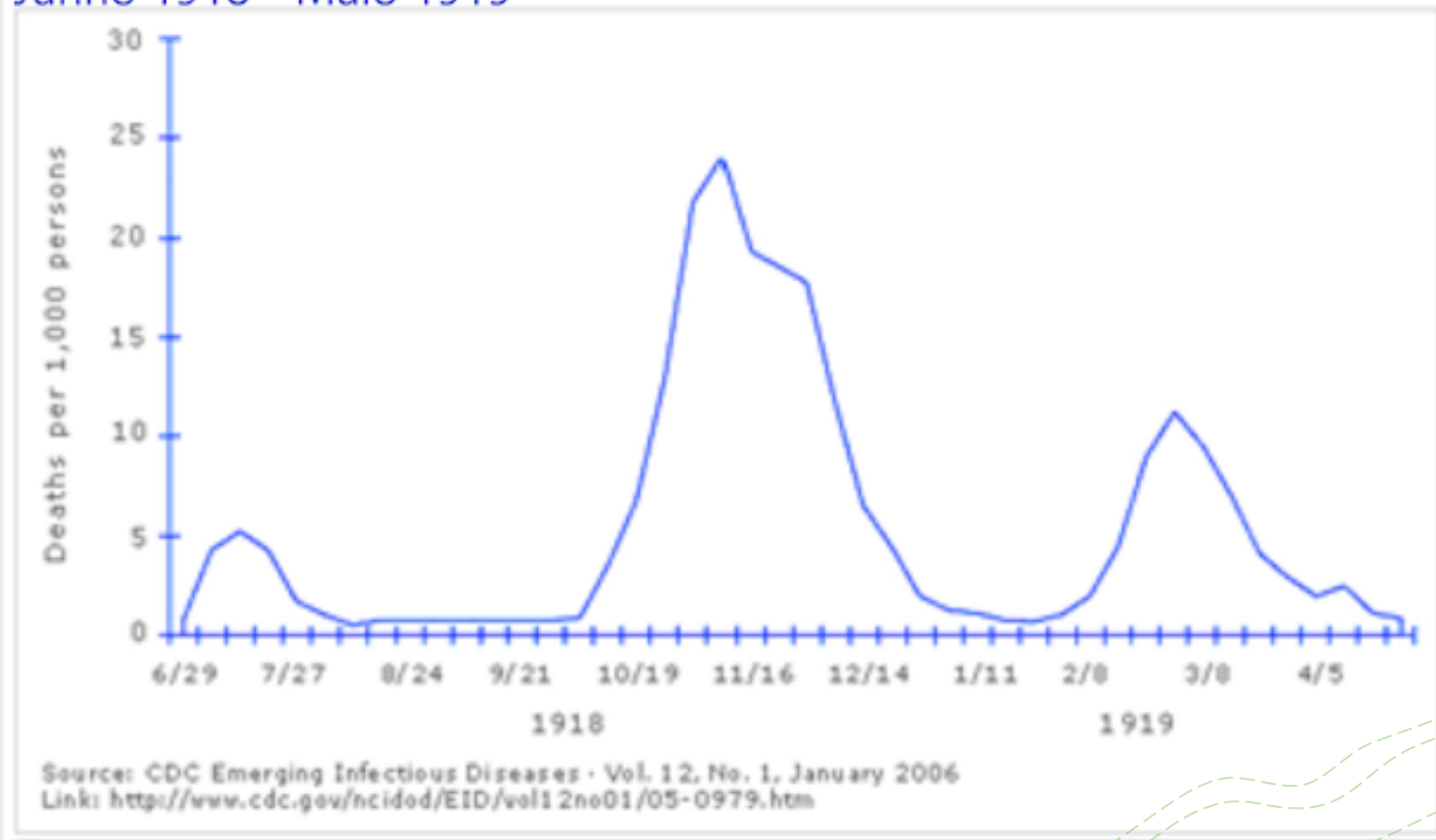
- + Peste bubônica: começou no século XIV na Europa, matou 75 milhões de pessoas e reduziu a população mundial reduziu em 100 milhões de pessoas;
- + Varíola: começou século XV e teve aparição global em 1817. Matou 40 milhões de pessoas;
- + Gripe espanhola: começou em 1918 e matou entre 40 e 50 milhões de pessoas.

Gráficos



Gráficos

Gripe Espanhola: Taxas de Mortalidade na Inglaterra (por 1000 hab)
Junho 1918 - Maio 1919



SEMELHANÇAS E DIFERENÇAS DAS PANDEMIAS PASSADAS COM O COVID-19

- + Os idosos são com mais de 70 anos são que mais se infectam;
- + A quantidade de mortos e o impacto do contágio é diferente;
- + Nos navios, eles tinham que ficar nas cabines para não espalhar;
- + Em algumas doenças, os sintomas são semelhantes;
- + Velocidade de infecção.